

### 成人看護学方法論3 (HCU/循環器)

100点

学生番号( ) 氏名( )

100

#### 問題1

虚血性心疾患のうち、ニトログリセリンの使用後、症状が軽減する疾患を○で囲め。

- ①. 狭心症
- ②. 心筋梗塞

#### 問題2

急性心筋梗塞の代表的な症状を○で囲め。

- ①. 20-30分以上の胸痛
- ②. 20-30分未満の胸痛

#### 問題3

急性心筋梗塞の合併症を全て○で囲め。

- ①. 心不全
- ②. 致死的不整脈
- ③. 心破裂

#### 問題4

急性心筋梗塞のゴールデンタイムとは？  
あてはまる方を○で囲め。

- ①. 発症から6時間以内のカテーテル治療
- ②. 病院到着から6時間以内のカテーテル治療

#### 問題5

心房細動の合併症をすべて○で囲め。

- ①. 心不全
- ②. 致死的不整脈
- ③. 心破裂
- ④. 脳梗塞

#### 問題6

心不全のうち  
左心不全と右心不全の症状はどちらか  
( )内を左・右で埋めよ  
例:強い倦怠感(左)

- ①. ピンク色の泡状痰(左)
- ②. 強い息切れ・動悸(左)
- ③. 頸静脈怒張 (右)
- ④. 下肢の浮腫 (右)

#### 問題7

A 気道管理について正しいものを1つ選べ

- ①. 気管挿管は侵襲的気道確保の方法である
- ②. 嘔声がある場合は気道は狭くなっていない
- ③. 非侵襲的(用手)気道確保の方法に下顎挙上法含まれない
- ④. 発声できなくても意識あれば気道閉塞ではない

## 問題8

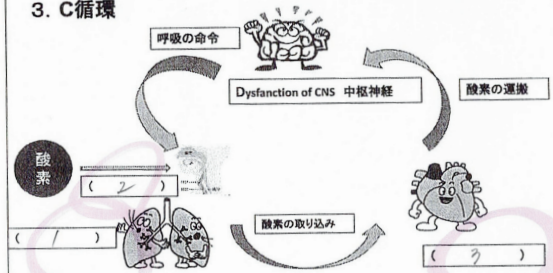
### B 呼吸管理について正しいものを1つ選べ

1. 空気中の酸素濃度は51%である
2. 重度貧血や指先が冷たくてもSpo2は正確に測定できる
3. 集中治療室では正確かつ頻回に血中酸素濃度を測定するためにAライン(動脈ライン)を留置することがある。
4. 成人男性でSpo2 95%、呼吸数40回/分は呼吸正常である

## 問題9

脳に酸素を送る過程で重要な( )内を下記から選べ

1. B呼吸
2. A気道
3. C循環



## 問題10

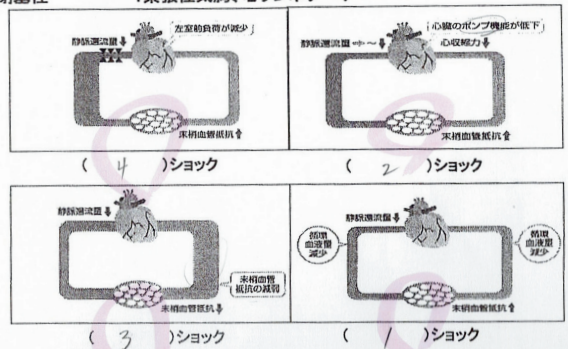
ショック症状に関して( )内を下記から選べ

1. 虚脱・不穩
2. 傾眠
3. 意識障害



## 問題11 Cショックの分類を( )内を下記から選べ

1. 循環血液量減少性: 大量出血、脱水
2. 心原性: 心筋梗塞、心不全
3. 血液分布異常性: アナフィラキシー、敗血症
4. 閉塞性: 緊張性気胸、心タンポナーデ



## 問題12 人口呼吸器の合併症について

問題12 人工呼吸器の合併症について

( )内を下記から選べ

1. 血圧
2. 人工呼吸器関連
3. 尿量



## 成人看護学方法論3 (ME機器/心電図)

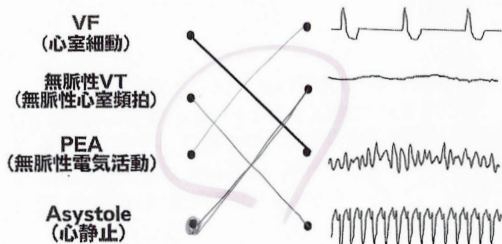
40点

学生番号( ) 氏名( )

40

## 問題1

心停止の4つの波形と名称を線でつなげよ



## 問題2

心停止の4つの波形と初期治療を線でつなげよ

